



المديرية العامة للتربية والتعليم بمحافظة ظفار

مدرسة:

امتحان مادة : هذا وطني

للف : الحادي عشر

للعام الدراسي 1442/1441 هـ - 2021/2020 م

الدور الأول - نهاية العام الدراسي

- زمن الامتحان : (ساعتان) ● عدد صفحات أسئلة الامتحان: (7) صفحات.
- الإجابة في الدفتر نفسه .

اسم الطالب	
الصف	المدرسة

السؤال	الدرجة		التوقيع بالاسم	
	بالأرقام	بالحروف	المصحح الأول	المصحح الثاني
1				
2				
3				
4				
5				
المجموع			جمعه	مراجعة الجمع
المجموع الكلي				

(1)

المادة: هذا وطني الصف: الحادي عشر الدور الأول - نهاية العام الدراسي العام الدراسي 2021/2020م

أجب عن جميع الأسئلة التالية:

السؤال الأول:

ضلل الشكل المقترن بالإجابة الصحيحة من بين البدائل المعطاة لكل مفردة من المفردات التالية:

1- من مؤلفات أحمد بن ماجد السعدي:

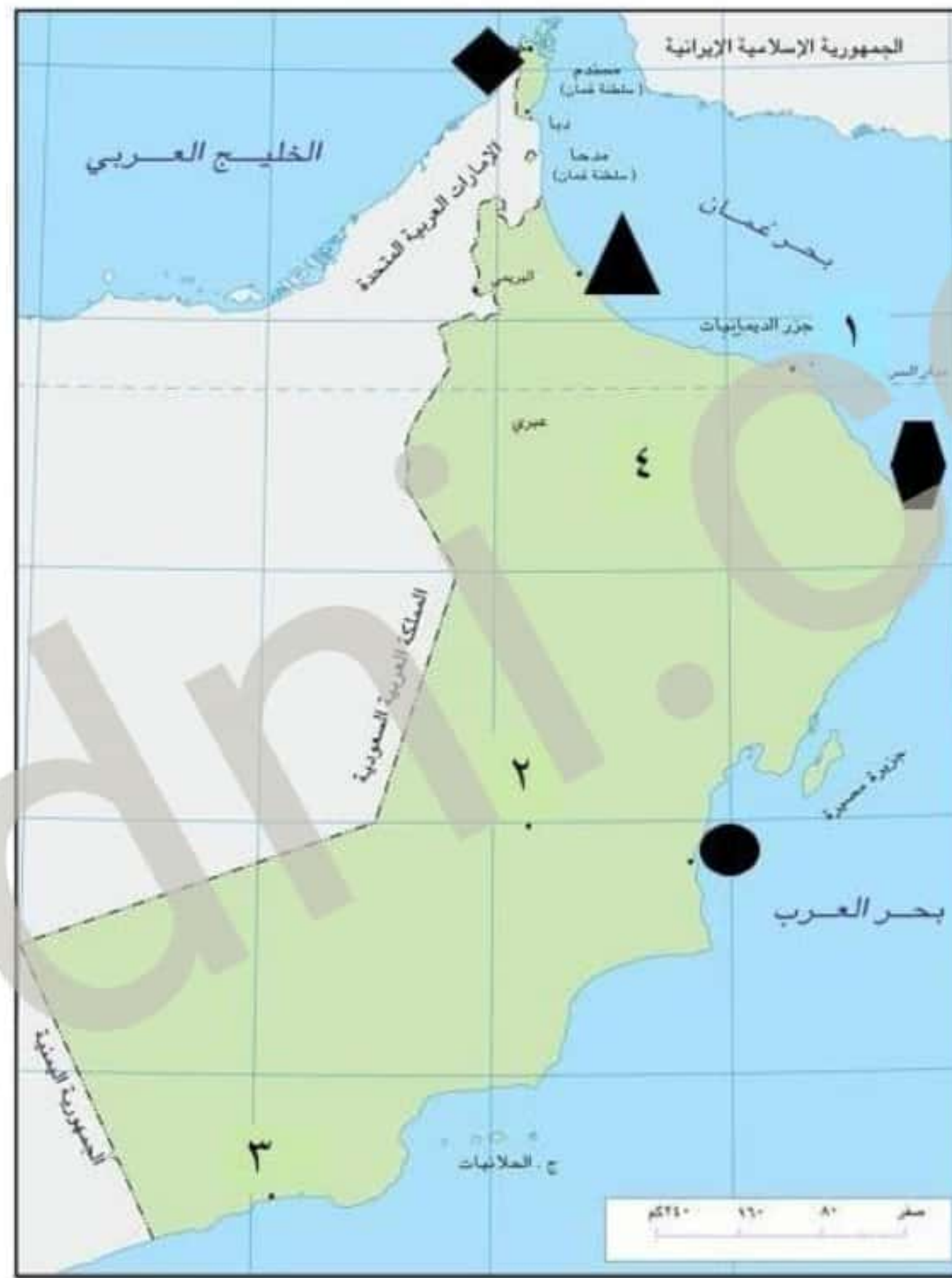
رسالة في علم الفلك للمبتدئين

رسالة في علم الفلك للمبتدئين

معادن الأسرار في علم البحار

معادن الأسرار في علم البحار

من خلال الخريطة التالية أجب عن المفردات 2-4 :



2- يؤرخ محراب المسجد الجامع بها إلى سنة 650 هـ / 1252 م المدينة المشار لها بالرقم:

4

3

2

1

3- الرمز الصحيح لموقع ميناء الدقم:

4- جميع ما يلي من المواد التي درسها السلطان قابوس بن سعيد طيب الله ثراه على يد المعلم حفيظ بن سالم الغساني ماعدا:

الحساب

الطب

الجغرافيا

التاريخ

5- جميع ما يلي ينطبق على السلطان (رئيس الدولة) حسب المادة (42) من النظام الأساسي للدولة عدا:

القائد الأعلى للقوات المسلحة

رمز الوحدة الوطنية

أمره مطاع أحيانا

احترامه واجب

تابع السؤال الأول:

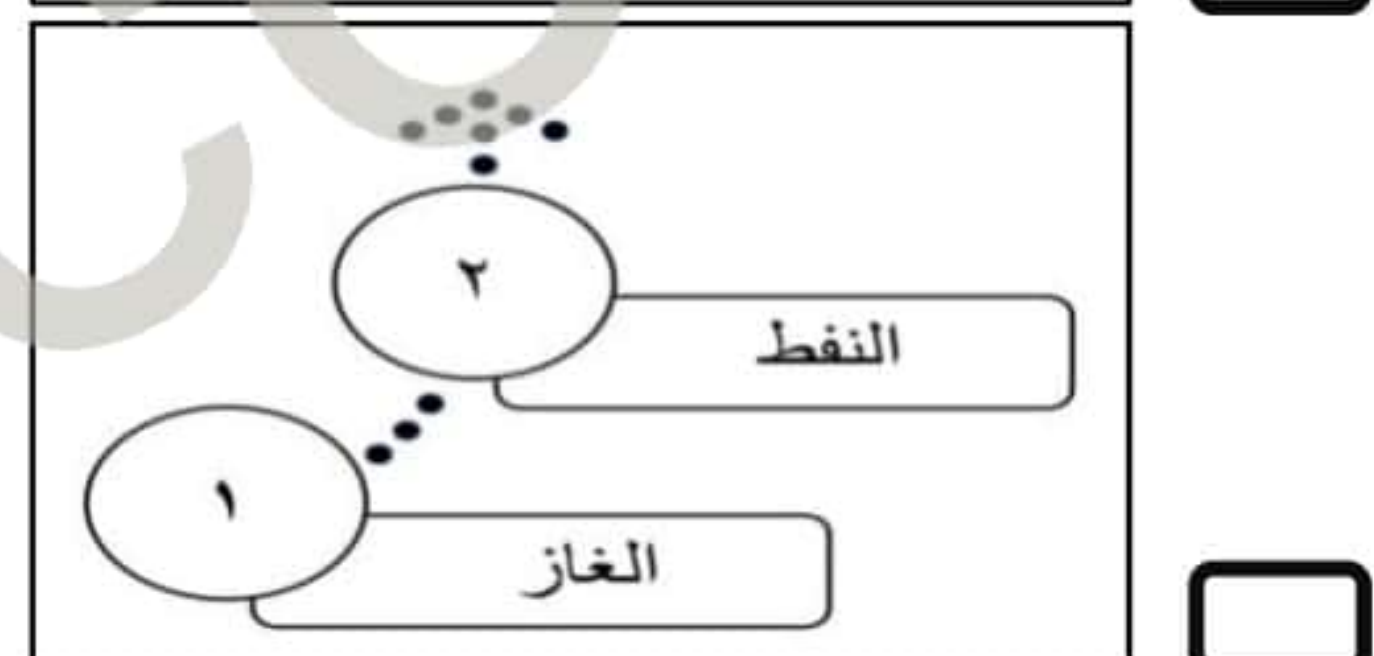
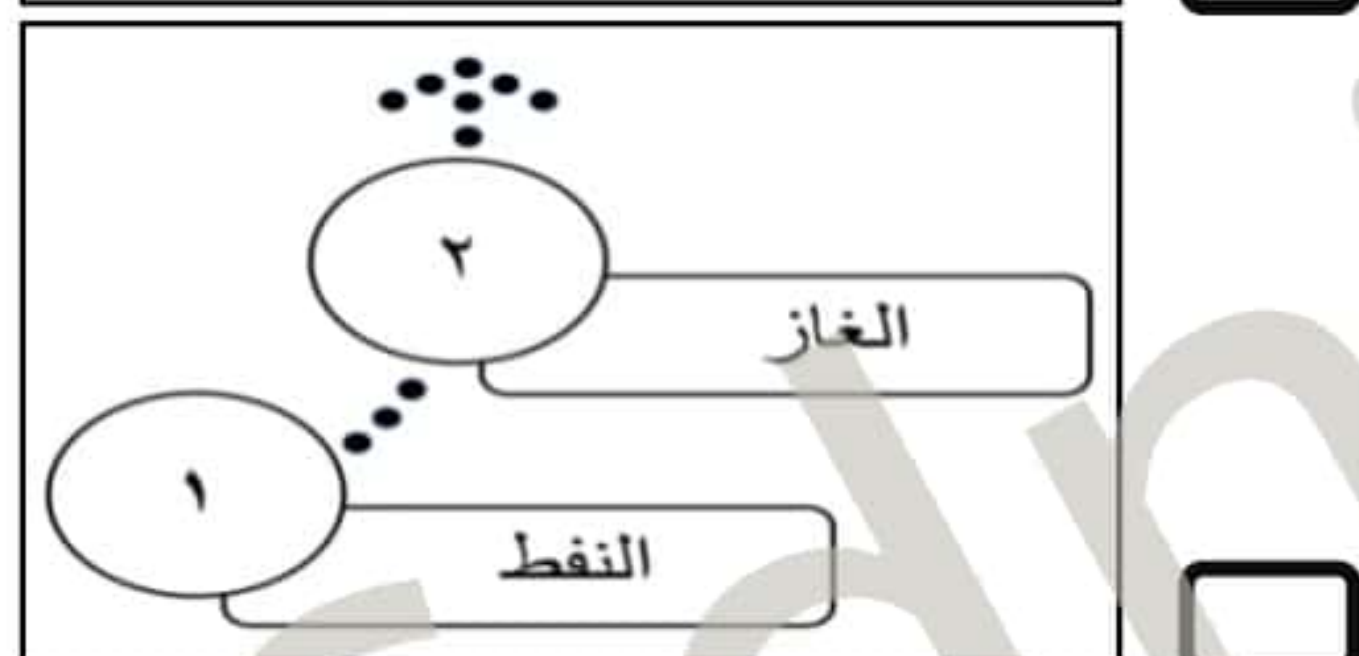
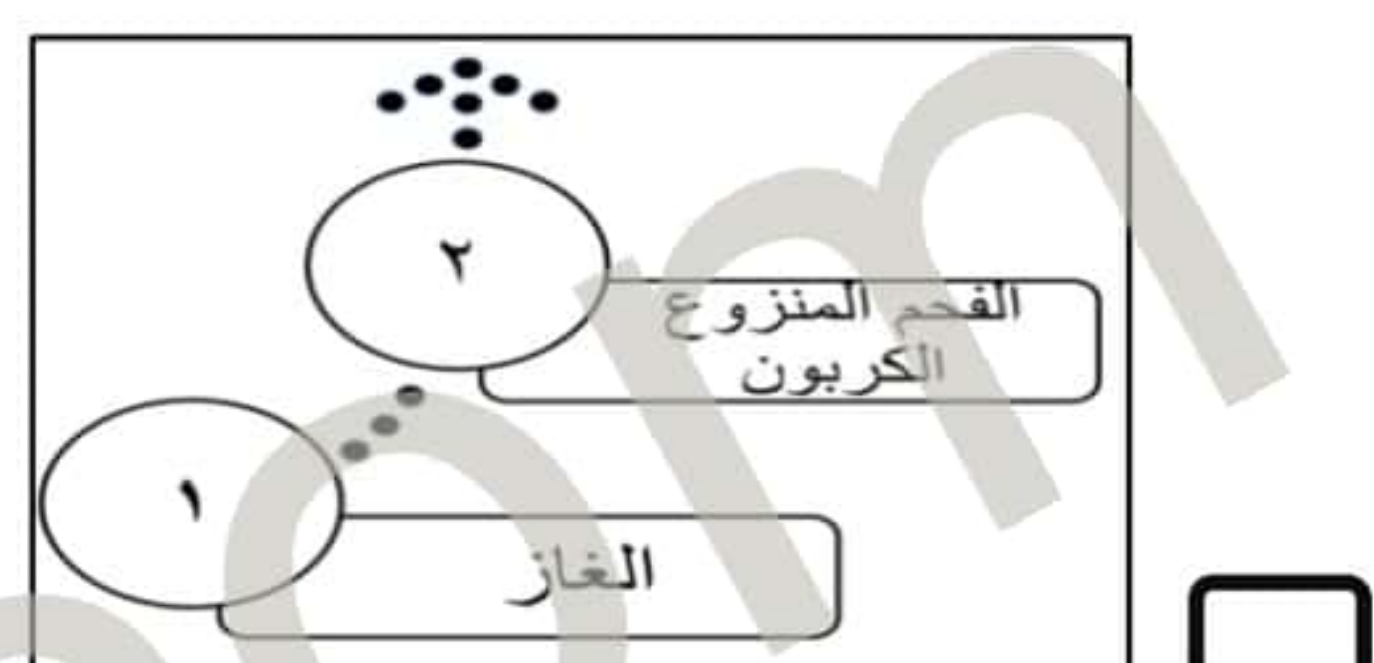
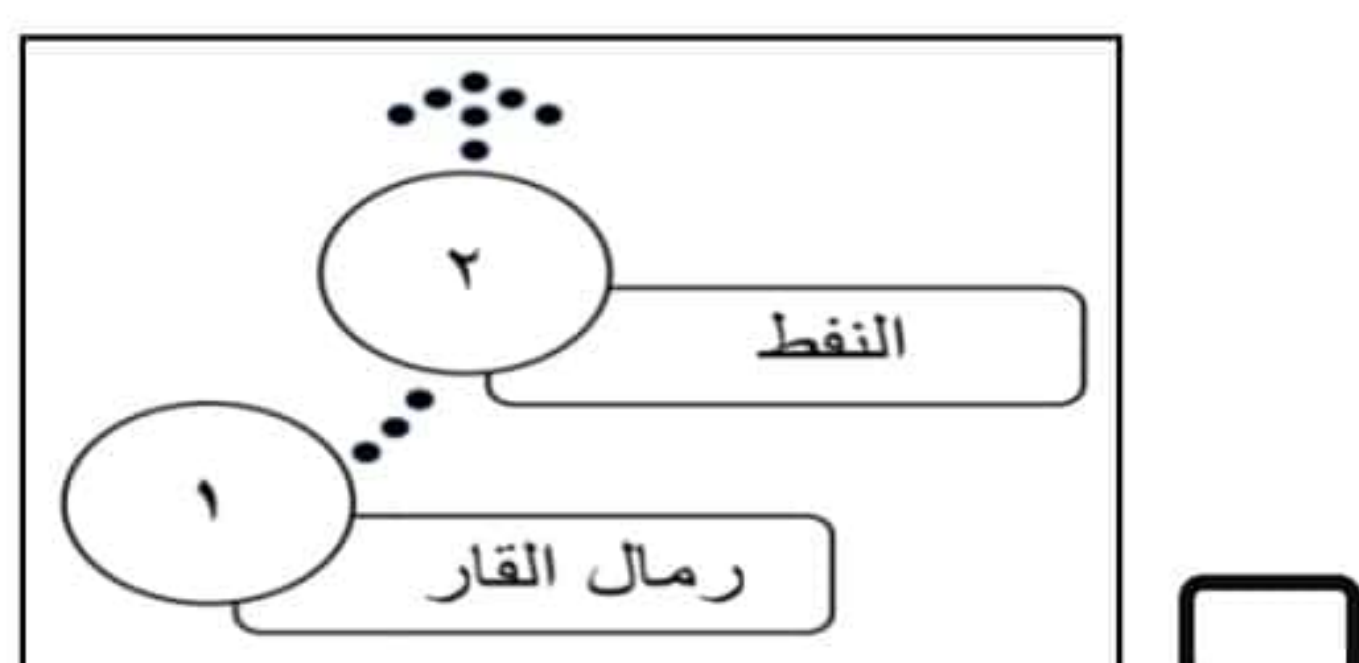
-6 من القطاعات غير النفطية في سلطنة عُمان:

الزراعة الغاز الطبيعي الفحم الحجري البترول

-7 تشكل الموارد الطبيعية واشكال السطح والمواقع الجغرافي والتنوع البيئي مقومات الاقتصاد العُماني:

الطبيعية البشرية الحضارية المشيدة

-8 الترتيب الصحيح وفق الأهمية في الاقتصاد العُماني في القطاع النفطي:



-9 "مجموعة القوانين والنظم والقرارات التي تهدف إلى تحقيق الجودة والتميز في الأداء" تعرف ب:

الرؤية المستقبلية الحوكمة لاستثمارات الأجنبية التنويع الاقتصادي

-10 الترتيب الصحيح للأحداث التالية المرتبطة بسيرة السلطان قابوس بن سعيد - طيب الله ثراه - من الأقدم إلى الأحدث يمثلها الشكل:



-11 منح السلطان قابوس بن سعيد طيب الله ثراه جائزة الإنسان العربي عام 2016 م من:

صندوق الأمم المتحدة للسكان صندوق الأمم المتحدة للسكان حقوق الإنسان المركز العربي الأوربي لحقوق الإنسان والقانون الدولي مراسلون بلا حدود منظمة مراقبة

(3)

المادة: هذا وطني الصف: الحادي عشر الدور الأول - نهاية العام الدراسي العام الدراسي 2021/2020م

تابع السؤال الأول:

12- الوصف الصحيح لإنتاج وأسعار النفط خلال الفترة من 2008 م:



ثبات إنتاج وأسعار النفط

تذبذب إنتاج وأسعار النفط

ثبات إنتاج النفط وتذبذب أسعاره

تذبذب إنتاج النفط وثبات أسعاره

13- أنشئ المجلس الاستشاري في العام الميلادي:

1991

1991

1981

1971



14- تمثل الصورة الآتية مبنى:

مجلس عُمان

دار الأوبرا السلطانية

المحكمة العليا

وزارة التربية والتعليم

15- عدد الأجزاء التي يتكون منها كتاب قاموس الشريعة:

90

72

45

22

15

السؤال الثاني:

أجب عن جميع الأسئلة التالية:

أولا: "ظهر في عُمان علماء موسوعيون الذين برعوا في عدد من فنون العلم، وبرزت دور المرأة العُمانية في مختلف جوانب الحياة مساهمة منها في رفد الوطن وتنميته"

يتبع/4

(4)

المادة: هذا وطني الصف: الحادي عشر الدور الأول - نهاية العام الدراسي العام الدراسي 2021/2020م

تابع السؤال الثاني:

أ- في ضوء العبارة السابقة أجب عن الأسئلة التالية:

1- ما العامل الذي ساعد المرأة على القيام بهذا الدور؟

2- اذكر عالماً من علماء عُمان الموسوعيين .

ب- سم نموذجاً واحداً من نماذج النساء العمانيات اللاتي أسهمن في الحركة الثقافية بعُمان.

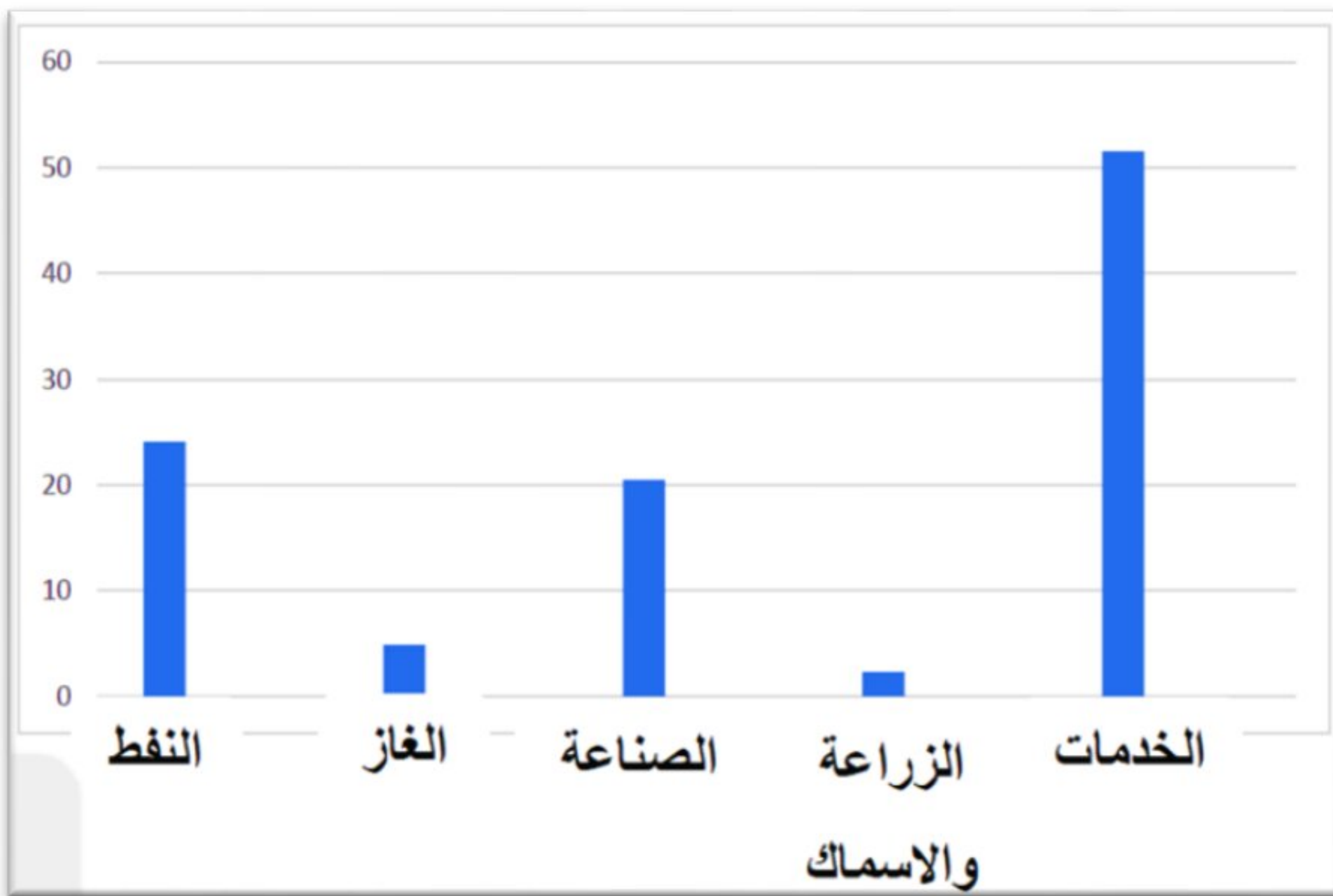
ثانياً: عدد اثنين مما يلي:

1- أسباب اكتساب المنتجات العُمانية سمعة محلية ودولية جيدة

2- الأسس والقواعد التي قامت عليها النهضة العُمانية.

3- المجالس المتخصصة.

ثالثاً: الشكل البياني الآتي يمثل نسبة مساهمة قطاعات الاقتصاد العُماني في الناتج المحلي الإجمالي عام 2017م، ادرسه ثم أجب عن السؤال الذي يليه:



ما القطاع الذي يحتل المرتبة الثالثة من حيث نسبة المساهمة في الناتج المحلي الإجمالي لعام 2017م؟

10

يتبع/5

السؤال الثالث:

أجب عن جميع الأسئلة التالية:

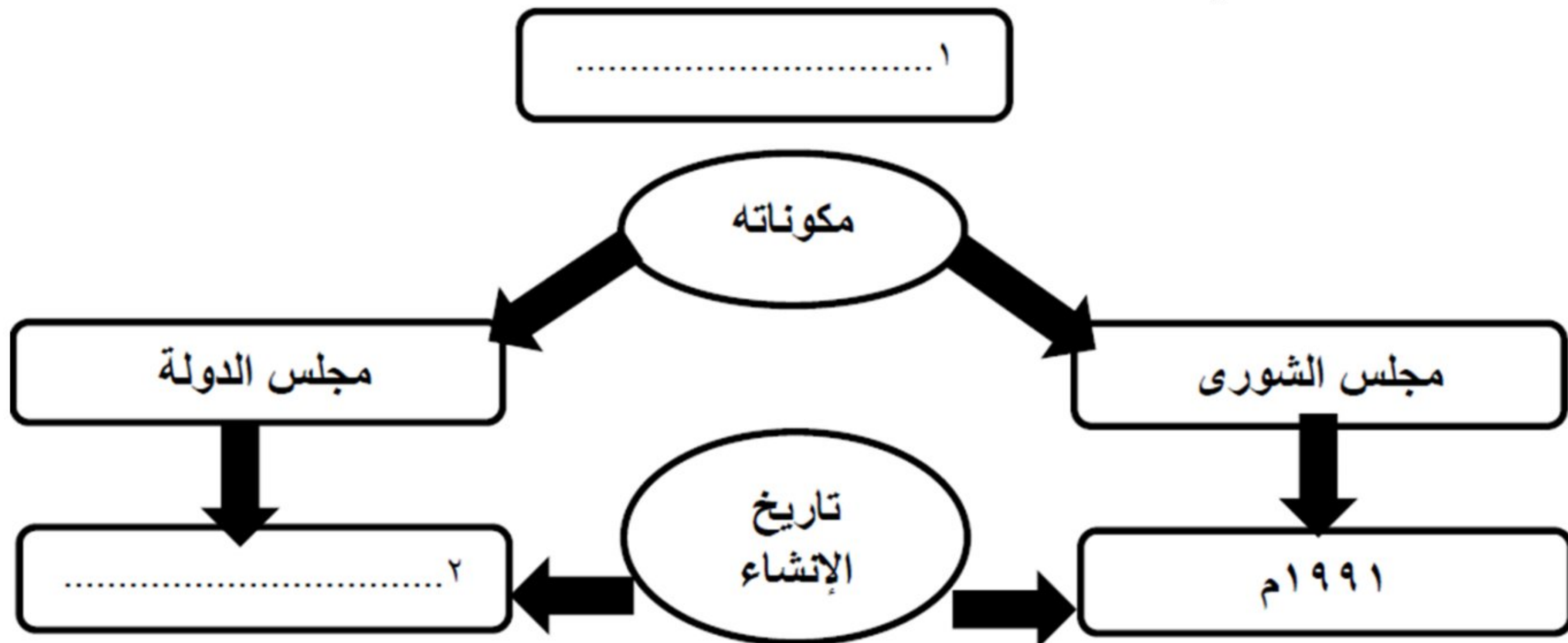
أولاً: علل لما يأتي:

1- بذلت حكومة السلطنة جهوداً مكثفة في مجال التنقيب عن النفط والغاز الطبيعي في أراضيها.

2- تعرض المنتجات العمانية لتحديات وصعوبات عدة.

3- حرصت السلطنة على تأكيد استقلالية القضاء.

ثانياً: أكمل بيانات المخطط التالي:



ثالثاً: أنظر إلى خريطتين التاليتين لاثنتين من قارات العالم، أدرسهما جيداً، ثم أجب عن الأسئلة التي تلي كل خريطة:



1- ما الرمز الذي يشير إلى الدولة التي منحت السلطان قابوس طيب الله ثراه جائزة جواهر لال نهرو للتفاهم الدولي 2007 م؟

(6)

المادة: هذا وطني الصف: الحادي عشر الدور الأول - نهاية العام الدراسي العام الدراسي 2021/2020م

تابع السؤال الثالث:



1- ما الرقم الذي يشير إلى الدولة التي منحت السلطان قابوس
طيب الله ثراه جائزة السلام الدولية عام 1998 م؟

10

السؤال الرابع:

أجب عن جميع الأسئلة التالية:

أولاً: "ركزت السلطنة في خططها التنموية على التنوع الاقتصادي لذا يتكون من مجموعة من القطاعات " في ضوء ذلك أجب عن الأسئلة التالية:

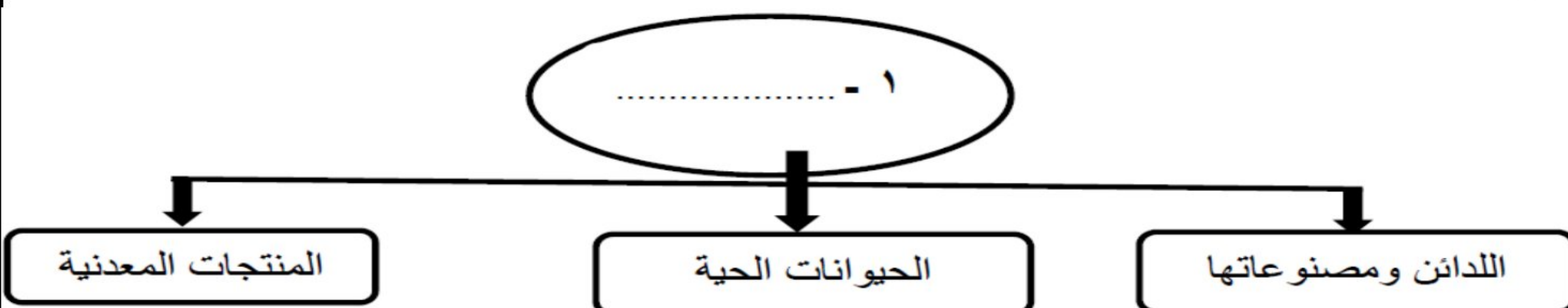
1- ما المقصود بـ "التنوع الاقتصادي".

2- ما المقياس الذي تقاس به أهمية مساهمة القطاعات الرئيسية والفرعية في الاقتصاد المحلي؟

3- بم تفسر ارتفاع مساهمة القطاعات غير النفطية في الناتج المحلي الإجمالي؟

ثانياً: أجب عن جميع الأسئلة التالية:

1- ضع عنواناً مناسباً للشكل من خلال اكمال البيانات الناقصة



يتبع/7

2- دلل على صحة العبارة التالية:

"وضعت سلطنة عُمان مجموعة من الامتيازات والحوافز للمستثمرين الأجانب."

3- ما المدينة العُمانية التي شهدت مولد السلطان قابوس بن سعيد طيب الله ثراه ؟



ثالثاً: تشير الصورة المقابلة إلى إحدى الهوايات للسلطان قابوس بن سعيد طيب الله ثراه.

ما هذه الهواية ؟

10

السؤال الخامس:

أجب عن جميع الأسئلة التالية:

أولاً : أجب عن السؤالين التاليين:

1- فرق بين المشربيات والقمريات.

2- فسر: تختص اللجنة الوطنية للشباب بتنظيم ندوات توعوية وحوارية بشكل دوري.

ثانياً: أكمل البيانات الناقصة في جدول المقارنة التالي:

أوجه المقارنة	العلماء	1- _____
من مؤلفاته	فاكهة ابن السبيل	2- _____
القرن الهجري الذي عاش فيه	القرن 9 (هـ)	القرن 2 (هـ)

5

انتهت الأسئلة مع الدعاء للجميع بالتوفيق والنجاح.